

かずのいみや、あらわしかた

なまえ

がくしゅう日

ポイント

- ① 100までの かずを よんだり かいたり しましょう。
- ② 十のくらいと 一のくらいに わけて みましょう。
- ③ じゅんばんを あらわす かずを まなびましょう。
- ④ 100より おおきい かずを よんだり かいたり しましょう。

ドリル

1

□に あてはまる かずを かきましょう。

- (1) 63 — 64 — □ — 66 — 67 — □
- (2) 50 — 60 — □ — 80 — 90 — □
- (3) 70 — 72 — 74 — □ — 78 — □

2

□に あてはまる かずを かきましょう。

- (1) 10 が 3 こと 1 が 6 ことで □
- (2) 57 は 10 が □ こと 1 が □ こ
- (3) 10 が 10 ことで □

3 に あてはまる かずを かきましょう。

(1) 十のくらいが 4, 一のくらいが 5 の かずは

(2) 十のくらいが 7, 一のくらいが 0 の かずは


4 に あてはまる かずを かきましょう。

(1) 60 より 5 おおきい かずは

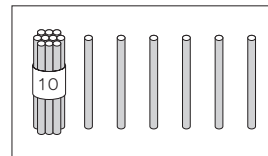
(2) 60 より 3 ちいさい かずは

5 なんぼん ありますか。

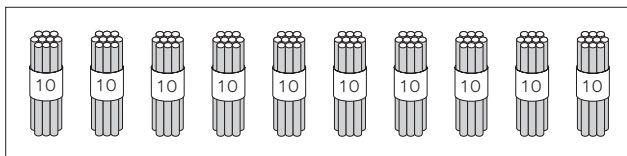
(1)



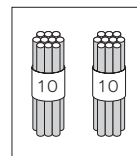
と



(2)



と



6 ひろしさんは まえから 5にんめに います。ひろしさんの うしろに 3にん います。みんなで なんにん いますか。

(しき)

こたえ

7 バスていに 9にん ならんで います。ゆみさんは まえから 5ばんめに います。ゆみさんの うしろに なんにん いますか。

(しき)

こたえ

かずのいみや、あらわしかた

かいとう	ヒント
<p>1</p> <p>(1) 65, 68</p> <p>(2) 70, 100</p> <p>(3) 76, 80</p> <p>2</p> <p>(1) 36 (2) 5, 7</p> <p>(3) 100</p> <p>3</p> <p>(1) 45</p> <p>(2) 70</p> <p>4</p> <p>(1) 65 (2) 57</p> <p>5</p> <p>(1) 116ぽん</p> <p>(2) 120ぽん</p> <p>6</p> <p>(しき) $5 + 3 = 8$</p> <p>こたえ 8にん</p> <p>7</p> <p>(しき) $9 - 5 = 4$</p> <p>こたえ 4にん</p>	<p>1</p> <p>(3) とんでいる すうじを かいて みると</p> <p>70 72 74 76 78 80</p> <p>71 73 75 77 79</p> <p>3</p> <p>十のくらの すうじは 10が なんこ あるかを あらわして います。</p> <p>一のくらの すうじは 1が なんこ あるかを あらわして います。</p> <p>4</p> <p>57 58 59 60 61 62 63 64 65</p> <p>← 3 ちいさい 5 おおきい →</p> <p>6</p> <p>まへ 1 2 3 4 5 ひろしさん 1 2 3 うしろ (6) (7) (8)</p> <p>7</p> <p>まへ 1 2 3 4 5 ゆみさん 6 7 8 9 うしろ (1) (2) (3) (4)</p>